
	INSTITUCION EDUCATIVA LA PAZ		Código: GPP-FR-20
	GUÍA DE AUTOAPRENDIZAJE: PLAN DE MEJORAMIENTO DE PERIODO		Versión: 01
			Página 1 de 7

Área o asignatura	Docente	Estudiante	Grado	Fecha de entrega	Periodo
MATEMATICAS	SNADRA CHAVARRIAGA PANIAGUA		4°	JUNIO 7/2022	II

¿Qué es un refuerzo? Es una actividad que desarrolla el estudiante adicional y de manera complementaria para alcanzar una o varias competencias evaluadas con desempeño bajo.	Estrategias de aprendizaje Multiplicación de números naturales. Solución de Situaciones problema. Triángulos . Secuencias con figuras geométricas. Estudio estadístico: Tabla de frecuencias
Actividades de autoaprendizaje: Observación de vídeos, lecturas, documentos, talleres, consultas.	
*Los cuadernos desatrasados no constituyen evidencia de aprendizaje	

Competencia	Actividades	Entregables	Evaluación
Realiza multiplicación de números naturales. Identifica y clasifica triángulos. Analiza diferentes secuencias geométricas. Resuelve situaciones problema utilizando las operaciones básicas.	1. Resuelve le taller propuesto: 2. Observa los triángulos y clasifica.		

	INSTITUCION EDUCATIVA LA PAZ	Código: GPP-FR-20
	GUÍA DE AUTOAPRENDIZAJE: PLAN DE MEJORAMIENTO DE PERIODO	Versión: 01
		Página 2 de 7

--	--	--	--

1.

**Multiplicaciones 2**

$$\begin{array}{r} 34678 \\ \times 32 \\ \hline \end{array}$$

$$\begin{array}{r} 47562 \\ \times 41 \\ \hline \end{array}$$

$$\begin{array}{r} 961 \\ \times 84 \\ \hline \end{array}$$

$$\begin{array}{r} 5722 \\ \times 19 \\ \hline \end{array}$$

$$\begin{array}{r} 5716 \\ \times 73 \\ \hline \end{array}$$

$$\begin{array}{r} 27843 \\ \times 349 \\ \hline \end{array}$$

$$\begin{array}{r} 2089 \\ \times 57 \\ \hline \end{array}$$

$$\begin{array}{r} 57990 \\ \times 38 \\ \hline \end{array}$$






$$\begin{array}{r} 246 \\ \times 60 \\ \hline \end{array}$$

$$\begin{array}{r} 461 \\ \times 90 \\ \hline \end{array}$$

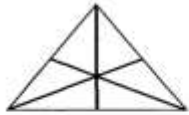
$$\begin{array}{r} 631 \\ \times 40 \\ \hline \end{array}$$



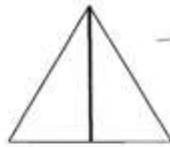
Llena la tabla de abajo recortando y pegando los recuadros de la derecha. 

	Lados	Angulos iguales	Angulos rectos	Ejes de simetría
				
				
				
				
				

Recuerda:



Triángulo Equilátero:
3 lados iguales
3 ángulos iguales



Triángulo Isósceles:
2 lados iguales y
1 diferente
1 eje de simetría



Triángulo Escaleno:
3 lados diferentes
3 ángulos distintos



Clasificación de triángulos




Bim. 5
Sem. 36
Ficha 185



3	3
0	3
3	3
3	3
2	2
0	0
0	0
0	0
1	1
1	1

3. Resuelve

	INSTITUCION EDUCATIVA LA PAZ	Código: GPP-FR-20
	GUÍA DE AUTOAPRENDIZAJE: PLAN DE MEJORAMIENTO DE PERIODO	Versión: 01
		Página 5 de 7

PROBLEMAS :

Recuerda que todo problema debe tener una respuesta

1. Un campesino cosecha en un día 213 kilos de papas . ¿Cuántos kilos de papas recogerá en 25 días?

Respuesta:_____

2. Valentina para un trabajo del colegio compró 235 ladrillitos . Si cada uno costaba \$ 52 ¿Cuánto dinero gastó en total?

Respuesta:_____

3. En un restaurante compran lechugas a \$ 1.250 cada una y en el mes se gastan 45 lechugas. ¿Cuánto cuestan mensualmente las lechugas ?

Respuesta:_____

4. Isaac compra para su tienda 2.348 helados a \$ 325 cada uno. ¿Cuánto le costaron los todos los helados ?

Respuesta:_____



- Las edades de los estudiantes de la sección de primaria son las siguientes. Llena la tabla de frecuencias.

6 6 6 6 6 6 6 6 6 6 6 6 6 6 6
7 7 7 7 7 7 7 7 7 7 7 7 7 7 7
8 8 8 8 8 8 8 8 8 8 8 8 8 8 8
10 10 10 10 10 10 10 10 10 10
11 11 11 11 11 11 11 11 11 11
12 12 12 12 12 12 12 12 12 12 12

Tabla de frecuencias	
Edad	Frecuencia
6	
7	
8	
9	
10	
11	
12	

- Analiza la siguiente tabla y responde.

Mascotas preferidas	
Datos	Frecuencia
	5
	4
	3
	4

- ¿Cuál puede ser la pregunta de este estudio?
- ¿A cuántas personas se les hizo la pregunta?
- ¿Cuál es la mascota preferida?
- ¿Qué mascotas obtuvieron las mismas frecuencias?



INSTITUCION EDUCATIVA LA PAZ

Código: GPP-FR-20

GUÍA DE AUTOAPRENDIZAJE: PLAN DE MEJORAMIENTO DE PERIODO

Versión: 01

Página 7 de 7